


PROCESO SELECTIVO CORRESPONDIENTE A LA OFERTA DE EMPLEO PÚBLICO DE
ESTABILIZACIÓN 2022



240 – ESPECIALISTA MANEJO FLORA Y FAUNA


TURNO LIBRE: **CONCURSO-OPOSICIÓN**

Se dispondrá de 60 minutos para la realización de la prueba.

1.	¿Cuál es el último paso del rehabilitador de un centro de recuperación de fauna?
A)	La liberación del ejemplar
B)	Preparar muscularmente al animal
C)	Que el ejemplar pase correctamente las diversas fases de la rehabilitación
D)	Minimizar el estrés del ejemplar
2.	¿Para qué tipo de animales es el <i>hacking</i> una técnica de liberación válida?
A)	Animales jóvenes de cualquier grupo zoológico
B)	Animales adultos de cualquier grupo zoológico
C)	Animales de cualquier edad y cualquier grupo zoológico
D)	Animales jóvenes exclusivamente para aves
3.	Según el Manual para el manejo de animales heridos de la fundación biodiversidad, ¿cuál es la primera acción a realizar cuando se encuentra un animal herido?
A)	Escoger el modo de inmovilización
B)	Identificar el grupo zoológico al que pertenece y, si es posible, la especie
C)	Llamar al Seprona
D)	Trasladarlo a un centro de recuperación
4.	Según el Manual para el manejo de animales heridos de la fundación biodiversidad, ¿cómo se recomienda coger a las liebres y conejos?
A)	Por las orejas
B)	Por la piel del dorso
C)	Por la cola
D)	Por las patas traseras
5.	<p>Según el Manual de identificación de los hábitats protegidos en la Comunitat Valenciana (Decreto 70/2009, de 22 de mayo, del Consell, por el que se crea y regula el Catálogo valenciano de especies de flora amenazadas, y se regulan medidas adicionales de conservación), ¿qué hábitat es el que aparece en la imagen?</p> 
A)	Matorrales de sabina rastrera de la península Ibérica
B)	Matorrales pulvulares de alta montaña, incluidas sus extensiones a vegetaciones culminales equivalentes de cimas meso y supramediterráneas
C)	Matorrales de erizón (<i>Erinacea anthyllis</i>) del Sistema Ibérico centro-meridional, en ocasiones con <i>Genista rigidissima</i>
D)	Matorrales enanos de <i>Astragalus nevadensis</i> (<i>A. sempervirens ssp. muticus</i>), calcícolas, en la alta montaña del Sistema Ibérico


6.	Según el Manual de identificación de los hábitats protegidos en la Comunitat Valenciana (Decreto 70/2009, de 22 de mayo, del Consell, por el que se crea y regula el Catálogo valenciano de especies de flora amenazadas, y se regulan medidas adicionales de conservación), ¿en cuál de estas sierras se ha descartado la presencia de la formación de matorrales arborescentes de <i>Laurus nobilis</i> ?
A)	Muela de Cortes
B)	Sierras próximas al litoral del sur de la provincia de Valencia
C)	Sierras próximas al litoral del norte de la provincia de Alicante
D)	Sierras próximas al litoral del norte de la provincia de Castellón
7.	Según la Orden 2/2022, de 16 de febrero, de la Conselleria de Agricultura, Desarrollo Rural, Emergencia Climática y Transición Ecológica, por la que se actualizan los listados valencianos de especies protegidas de flora y fauna), ¿qué es el CEEA?
A)	Centro Español Especies Amenazadas
B)	Centro de Educación Ambiental de la Comunitat Valenciana
C)	Catálogo Español de Especies Amenazadas
D)	Catálogo Europeo de Especies Amenazadas
8.	Según la Orden 2/2022, de 16 de febrero, de la Conselleria de Agricultura, Desarrollo Rural, Emergencia Climática y Transición Ecológica, por la que se actualizan los listados valencianos de especies protegidas de flora y fauna), ¿cuál de estas especies de flora se encuentra en peligro de extinción?
A)	<i>Tyto alba</i>
B)	<i>Gypaetus barbatus</i>
C)	<i>Cheirolophus lagunae</i>
D)	<i>Testudo hermanni subsp. Hermannii</i>
9.	Según el Decreto 32/2004, de 27 de febrero, del Consell de la Generalitat, por el que se crea y regula el Catálogo valenciano de especies de fauna amenazadas, y se establecen categorías y normas para su protección, ¿a qué se denomina especie protegida?
A)	Especies, subespecies o poblaciones no amenazadas ni sujetas a aprovechamientos cinegéticos o piscícolas, consideradas beneficiosas o que no precisen controles habituales para evitar daños importantes a otras especies protegidas, a la ganadería, a la agricultura o a la salud y seguridad de las personas, cuya protección exige la adopción de medidas generales de conservación
B)	Especies, subespecies o poblaciones de especies autóctonas no amenazadas ni sujetas a aprovechamientos cinegéticos o piscícolas que puedan precisar controles habituales para evitar daños a otras especies protegidas o catalogadas, cinegéticas o piscícolas, a la ganadería, a la agricultura o a la salud y seguridad de las personas
C)	Especies exóticas con poblaciones reproductoras en libertad que requieran de la adopción de medidas de control de poblaciones
D)	Especies, subespecies o poblaciones no amenazadas ni sujetas a aprovechamientos cinegéticos o piscícolas, consideradas beneficiosas o que no precisen controles habituales para evitar daños importantes a otras especies protegidas, a la ganadería, a la agricultura o a la salud y seguridad de las personas, cuya protección no exige la adopción de medidas generales de conservación
10.	Según el Decreto 32/2004, de 27 de febrero, del Consell de la Generalitat, por el que se crea y regula el Catálogo valenciano de especies de fauna amenazadas, y se establecen categorías y normas para su protección, ¿cuál de estos mamíferos está en peligro de extinción?
A)	Nutria
B)	Visón americano
C)	Erizo europeo
D)	Focha cornuda
11.	Según el Decreto 213/2009, de 20 de noviembre, del Consell, por el que se aprueban medidas para el control de especies exóticas invasoras en la Comunitat Valenciana, ¿qué contemplarán los planes de control de las especies exóticas?
A)	Medidas de detección y eliminación en los estadios iniciales de la invasión
B)	En cualquier caso, un programa de restauración de los hábitats afectados
C)	Si fuera necesario, un programa de seguimiento de las localidades donde se han llevado a cabo actuaciones de contención o erradicación
D)	En ningún caso, los planes de control podrán establecer áreas en las que las actuaciones difieran en su intensidad

12.	Según el Decreto 213/2009, de 20 de noviembre, del Consell, por el que se aprueban medidas para el control de especies exóticas invasoras en la Comunitat Valenciana, ¿cuál de estas especies está sometida al régimen de limitaciones del artículo 4.1?
A)	<i>Ludwigia spp</i>
B)	<i>Ameiurus melas</i>
C)	<i>Ammotragus lervia</i>
D)	<i>Silurus glanis</i>
13.	¿Cuál es coleóptero depredador natural de <i>Azolla filicoides</i> ?
A)	<i>Acmaeodera cylindrica</i>
B)	<i>Orthomus barbarus</i>
C)	<i>Habraloma triangulare</i>
D)	<i>Stenopelmus rufinasus</i>
14.	<p>¿Qué es lo que se ve en la imagen?</p> 
A)	Rizoma de <i>Cylindropuntia pallida</i>
B)	Rizoma de <i>Carpobrotus edulis</i>
C)	Rizoma de <i>Azolla filiculoides</i>
D)	Rizoma de <i>Arundo donax</i>
15.	¿Qué longitud de la guía de la motosierra se necesita para apeaar un árbol de 100 cm de diámetro?
A)	60 cm
B)	30 cm
C)	40 cm
D)	50 cm
16.	<p>¿Qué parte de la cadena está rodeada con el círculo?</p> 
A)	Eslabón guía
B)	Eslabón de unión
C)	Remache
D)	Diente gubia

17.	Según la Ley 42/2007, del patrimonio natural y de la biodiversidad, ¿quién elabora una lista de lugares que puedan ser declarados como zonas especiales de conservación?
A)	La Administración General del Estado y comunidades autónomas
B)	La Administración General del Estado
C)	Las comunidades autónomas
D)	Las diputaciones provinciales
18.	Según la Ley 42/2007, del patrimonio natural y de la biodiversidad, ¿qué significa ZEC?
A)	Zona especial de conservación
B)	Zona de especial protección
C)	Lugar de interés comunitario
D)	Zona exclusiva de conservación
19.	<p>Según la división corológica de la Comunitat Valenciana, ¿qué sector corresponde al número 3?</p> 
A)	Sector Setabense. Subprovincia Oroibérica
B)	Sector Ibérico Maestracense. Subprovincia Oroibérica
C)	Sector Ibérico Maestracense. Subprovincia Castellana
D)	Sector Valenciano-Tarraconense
20.	¿En cuál de estas zonas podemos encontrar <i>Centaurea lagascae</i> que se encuentra en peligro de extinción?
A)	Sierra de Crevillente
B)	Sierra de Irta
C)	Sierra de Salinas
D)	Sierra de Maigmó
21.	<p>Indique, conforme al Decreto 91/2023, de 22 de junio, del Consell, por el que se aprueba el Reglamento de la Ley 3/1993, de 9 de diciembre, forestal de la Comunitat Valenciana, ¿cuáles de las siguientes se consideran infraestructuras de prevención de incendios forestales?</p>
A)	Las redes de comunicaciones digitales de emergencia y seguridad de la Generalitat y sus instalaciones.
B)	Los observatorios para aves.
C)	Las líneas de suministro de agua potable a infraestructuras de prevención de incendios.
D)	Los aeropuertos de la Generalitat.

22.	Indique la respuesta correcta respecto al Nivel de preemergencia 3 ante el riesgo de incendios forestales y conforme al Decreto 91/2023, de 22 de junio, del Consell, por el que se aprueba el Reglamento de la Ley 3/1993, de 9 de diciembre, forestal de la Comunitat Valenciana:
A)	En los días y zonas para los que el nivel de preemergencia ante el riesgo de incendios forestales, que recoge el Plan Especial frente al Riesgo de Incendios Forestales de la Comunitat Valenciana, establezca el nivel 3, queda prohibido en general encender cualquier tipo de fuego en terrenos forestales y en la Zona de Influencia Forestal. Por este motivo, quedarán en suspenso todos los usos permitidos del fuego, independientemente del régimen de intervención administrativa, tales como autorizaciones, declaraciones responsables u otros, así como cualquier uso festivo-recreativo del fuego y los planes locales de quemas
B)	En los días y zonas para los que el nivel de preemergencia ante el riesgo de incendios forestales, que recoge el Plan Especial frente al Riesgo de Incendios Forestales de la Comunitat Valenciana, establezca el nivel 3, queda prohibido en general encender cualquier tipo de fuego en terrenos forestales y en la Zona de Influencia Forestal. Por este motivo, quedarán en suspenso los usos permitidos del fuego, sujetos a autorización administrativa
C)	En los días y zonas para los que el nivel de preemergencia ante el riesgo de incendios forestales, que recoge el Plan Especial frente al Riesgo de Incendios Forestales de la Comunitat Valenciana, establezca el nivel 3, quedan en suspenso todos las quemas de residuos agrícolas en terrenos forestales y en la Zona de Influencia Forestal, no obstante, se puede hacer uso de los paelleros ubicados en áreas recreativas ubicadas en terrenos forestales y en la Zona de Influencia Forestal siempre y cuando los paelleros se encuentren debidamente habilitados
D)	En ningún caso, se podrá restringir la libre circulación de personas, al ser éste un derecho constitucional y sujeto a aprobación previa por el órgano judicial
23.	¿Qué especie del género <i>Juniperus</i> tiene mayor extensión en la Comunitat Valenciana?
A)	<i>Juniperus phoenicea</i>
B)	<i>Juniperus oxycedrus</i>
C)	<i>Juniperus sabina</i>
D)	<i>Juniperus thurifera</i>
24.	¿Cuál de estos taxones se encuentra en retroceso en la Comunitat Valenciana durante las últimas décadas?
A)	Pinares de <i>Pinus halepensis</i>
B)	Pinares de <i>Pinus pinaster</i>
C)	Pinares de <i>Pinus nigra</i>
D)	Pinares de <i>Pinus sylvestris</i>
25.	¿Cuál es la formación arbustiva mayoritaria de la Comunitat Valenciana?
A)	Garriga
B)	Romerales
C)	Maquias
D)	Lastonares
26.	¿Cuál de estos romerales tienen un mayor carácter continental?
A)	Romeral con <i>Cistus clusii</i>
B)	Romeral con <i>Erica multiflora</i>
C)	Romeral con <i>Anthyllis cytisoides</i>
D)	Romeral con <i>Retama monosperma</i>
27.	¿La arena de playa se puede utilizar para enlucir?
A)	Sólo si la lavamos previamente
B)	No
C)	Sólo para armaduras
D)	Sí
28.	¿Qué es el cemento CEM III?
A)	Cemento compuesto
B)	Cemento puzolánico
C)	Cemento al horno
D)	Cemento Portland compuesto por un 61% de cal, 22% de sílice, resto aluminio y óxido férrico

29.	¿Qué es el escantillón?
A)	Barra de acero que sirve para romper el hormigón
B)	Barra de acero que sirve para hacer rozas
C)	Útil de madera recta y plana que sirve para facilitar hacer hiladas y muros iguales
D)	Cuerda de algodón que sirve para mantener la nivelación de las hiladas de ladrillos.
30.	¿Cuánto aditivo se le puede añadir al cemento?
A)	No más de un 5% del peso del cemento
B)	Al cemento no se le puede añadir aditivos
C)	No más de un 10% del peso del cemento
D)	No más del 50% del peso del cemento
31.	¿Qué es el revestimiento denominado guarnecido?
A)	Revestimiento con yeso
B)	Revestimiento con mortero de cemento
C)	Revestimiento con placas, generalmente pequeñas, plaquetas o mosaicos
D)	Revestimiento con cal
32.	¿Cuánto se debe dejar secar el mortero en los desconchados y grietas antes de aplicar el yeso?
A)	12 horas
B)	6 horas
C)	24 horas
D)	9 horas
33.	¿En qué consiste el método de eliminación de ramas denominado "cabeza de gato"?
A)	Eliminación del eje principal (líder) de la rama, dejando una rama viva al lado (lateral) que tomará el relevo
B)	Eliminación regular (repetitiva) de los brotes epicórmicos, dejando tocones muy cortos (normalmente de 1 cm de longitud) con una reserva de yemas latentes en su base
C)	Eliminación de una rama dejando un tocón, sin dejar un relevo lateral de tamaño suficiente
D)	Eliminación de ramas en el que se rompe una rama, a menudo después de haber realizado un corte parcial preliminar en la parte superior de la rama
34.	El ciclo general de poda en un árbol joven suele ser
A)	Una vez cada 2-3 años
B)	Una vez cada 2-3 meses
C)	Una vez cada 4 años
D)	Una vez cada medio año
35.	En el método de corte, dejando una esquina de seguridad para árboles grandes y árboles con un diámetro superior a la longitud de la espada, ¿de cuánto debe ser aproximadamente el corte por penetración?
A)	Aproximadamente un 25 % del diámetro del árbol
B)	Aproximadamente un 10 % del diámetro del árbol
C)	Aproximadamente un 85 % del diámetro del árbol
D)	Aproximadamente un 60 % del diámetro del árbol

36.	<p>¿Qué tipo de muesca se observa en la imagen?</p>  <p>A) Muesca inversa o corte Humboldt</p> <p>B) Muesca abierta con corte superior</p> <p>C) Muesca abierta con ángulo de apertura amplio</p> <p>D) Muesca abierta con corte inferior</p>
37.	<p>Para obtener las correspondientes ayudas previstas para las empresas, sus planes de igualdad tendrán (artículo 20.3 de la Ley 9/2003)?</p> <p>A) Una planificación de acciones sobre las que actuar si lo piden los trabajadores</p> <p>B) Ser revisados por el centro directivo de la administración con competencias en materia de mujeres e igualdad de género</p> <p>C) Ser supervisados por el centro directivo de la administración de la entidad local menor con competencias en materia de mujeres e igualdad de género</p> <p>D) Ser visados por el centro directivo de la administración de la Generalitat Valenciana con competencias en materia de mujeres e igualdad de género</p>
38.	<p>¿Cuál es la finalidad de ampliar la red pública de escuelas infantiles y guarderías laborales en las empresas, o prestaciones económicas equivalentes, en los períodos extraescolares, según el artículo 17 de la Ley 9/2003?</p> <p>A) Hacer compatible el trabajo con la maternidad y la paternidad a aquellas trabajadoras y trabajadores con descendencia de menos de tres años de edad y en período de vacaciones a los mayores de tres años</p> <p>B) Hacer compatible el trabajo con la maternidad y la paternidad a aquellas trabajadoras y trabajadores con descendencia de mayores de seis años de edad y en período de vacaciones a los menores de seis años</p> <p>C) Hacer compatible el trabajo con la paternidad a aquellos trabajadores con descendencia de mayores de seis años de edad y en período de vacaciones a los menores de cuatro años</p> <p>D) Hacer compatible el trabajo con la maternidad únicamente a aquellas trabajadoras con descendencia de menos de dos años de edad y en período de vacaciones a los mayores de doce años</p>
39.	<p>Según el artículo 4 de la Ley 31/1995, de 8 de noviembre, de prevención de riesgos laborales, se entiende por "riesgo laboral":</p> <p>A) La posibilidad de que un trabajador sufra un determinado daño derivado del trabajo. Para calificar un riesgo desde el punto de vista de su gravedad, se valorarán conjuntamente la probabilidad de que se produzca el daño y la severidad del mismo</p> <p>B) A los riesgos de sufrir un accidente en las dependencias de la empresa, siempre que sean durante el desarrollo de sus tareas y dentro de su horario laboral registrado</p> <p>C) Los efectos nocivos para la salud de los trabajadores como pueden ser el uso de mascarillas sanitarias</p> <p>D) Los que se establezca en los convenios colectivos de aplicación</p>
40.	<p>Indique cuál de los siguientes es uno de los principios generales de la acción preventiva del artículo 15.1 de la Ley 31/1995, de 8 de noviembre, de prevención de riesgos laborales:</p> <p>A) Combatir los riesgos en su destino</p> <p>B) No evaluar los riesgos que se puedan evitar</p> <p>C) Mantener un sistema coherente y sin variaciones interanuales que pudieran poner en peligro a los trabajadores</p> <p>D) Evitar los riesgos</p>